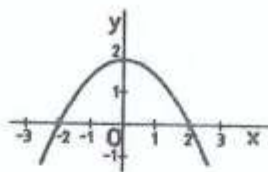
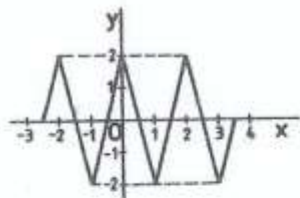
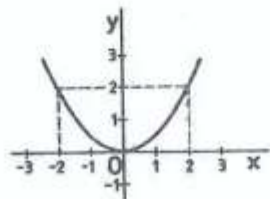
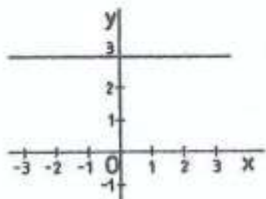
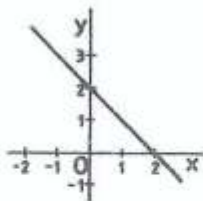
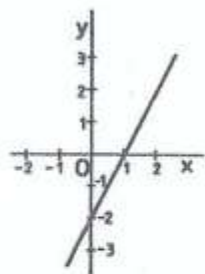
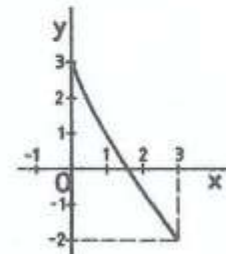
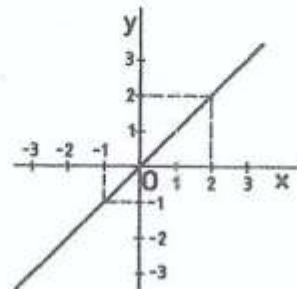
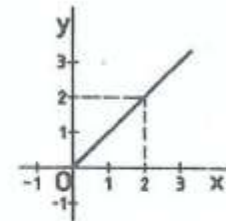
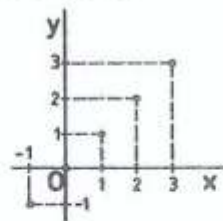


Určete, na kterém z následujících obrázků je graf funkce rostoucí a na kterém graf funkce klesající.



Zjistěte definiční obory a obory hodnot funkcí, jejichž grafy jsou na následujících obrázcích:



Určete, na kterém z následujících obrázků je graf funkce:

